

6 次のようなルールで3人がトランプゲームをしました。

【ルール】

- ① トランプの1～10までの40枚のカードの中から、順番に1回1枚ずつ4回カードをひく。
- ② ♠ ♣ のカードに書かれた数字を正の数、♥ ♦ のカードに書かれた数字を負の数として、4回ひいたカードの和を得点とする。
- ③ 合計の点数が0点に近い人を勝ちとする。


($\circ \geq \nabla \leq$) \circ

ひろくん





($\wedge \nabla \wedge$)

りかさん



川 ' - ' 川

あいさん



(1) りかさんの得点を求めなさい(式と答えを書くこと)。

(2) 勝ったのは誰ですか。